

中学校数学科

1 年生

6 空間図形

[数学的な思考力・判断力・表現力]

[問題]

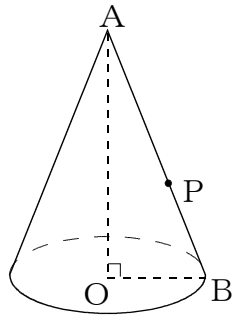
中学校

年 組 号 氏名

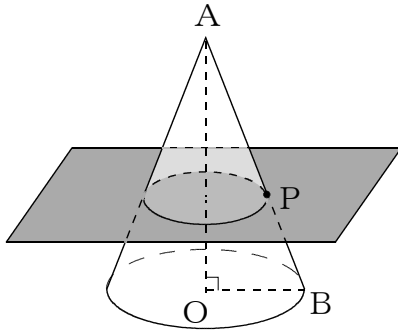
■ 数学的な思考力・判断力・表現力をはぐくむ問題 年 組 号 氏 名

■ 佐賀県小・中学校学習状況調査①

次の図のような円錐すいがあり、母線 AB 上に点 P があります。あとの問いに答えなさい。【H21】

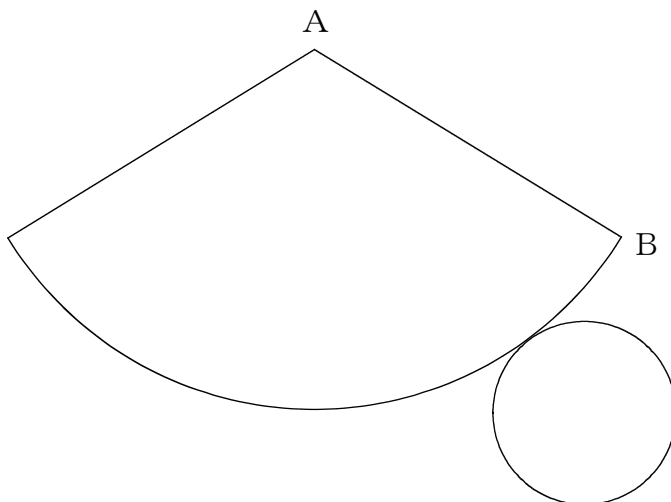


(1) 点 P を通り、AO に垂直な平面で切ると、切り口はどんな図形になりますか。



【解答】

(2) 次の図は円錐すいの展開図です。(1)で、点 P が AB の中点のとき、点 P と切り口の周を下の展開図にコンパスを使って作図しなさい。作図に使った線は、消さずに残しておきなさい。



■数学的な思考力・判断力・表現力をはぐくむ問題

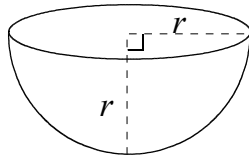
年 組 号 氏 名

■佐賀県小・中学校学習状況調査②

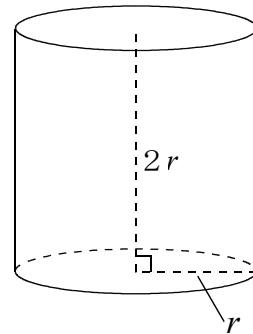
次の図のような半球の形の容器A，円柱の形の容器Bについて，あとの問いに答えなさい。

【H22】

容器A



容器B



容器Aに水をいっぱいに入れて，容器Bに移します。容器Bには，容器Aの何はい分の水がはいるでしょうか。次のアからエの中から1つ選んで，その記号を答えなさい。

- ア 2はい
- イ 3はい
- ウ 4はい
- エ 5はい

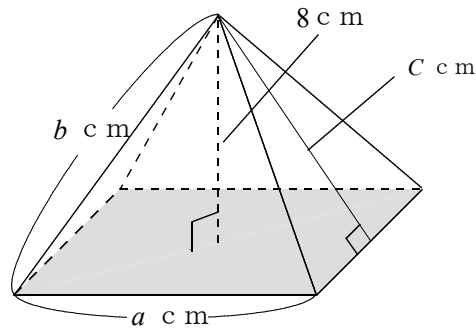
【解答】

■数学的な思考力・判断力・表現力をはぐくむ問題 年 組 号 氏名

■佐賀県小・中学校学習状況調査③

次の図のような底面が1辺 a cmの正方形で、高さが8cmの正四角錐すいがあります。側面は等しい辺が b cmで、高さが c cmの二等辺三角形になっています。あとの問いに答えなさい。

【H22】



(1) この正四角錐すいの体積を表す式を、次のアからエの中から1つ選んで、その記号を答えなさい。

ア $\frac{1}{3}abc$

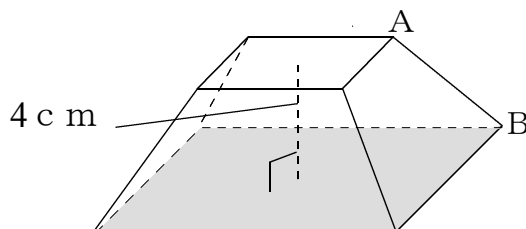
イ $2ac+a^2$

ウ $\frac{8}{3}a^2$

エ $\frac{1}{3}a^2c$

【解答】

(2) 底面から4cmの高さで、底面に平行な平面で切ると、次のような立体になります。この立体で、直線ABとねじれの位置にある直線は何本ありますか。



【解答】

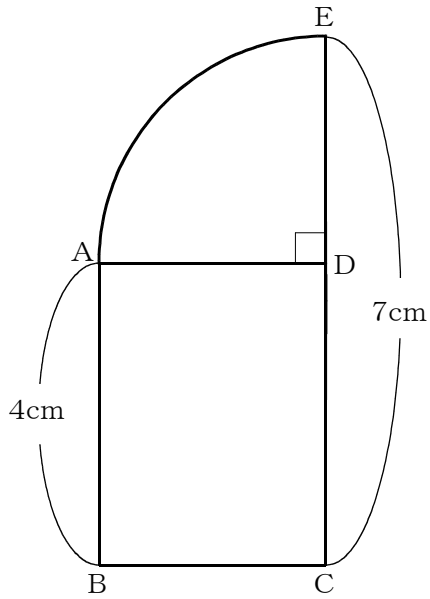
■数学的な思考力・判断力・表現力を育む問題 年 組 号 氏名

■佐賀県小・中学校学習状況調査④

長方形 $ABCD$ と、中心角が 90° であるおうぎ形 DAE を合わせて図3のような図形をつくりました。この図形を直線 EC を軸として、1回転させてできる回転体の体積を求めなさい。

【H23】

図3



【解答】

cm^3

中学校数学科

1 年生

6 空間図形

[数学的な思考力・判断力・表現力]

[解答例]

中学校

年 組 号 氏名

■ 数学的な思考力・判断力・表現力をはぐくむ問題[解答] 年 組 号 氏名

■ 佐賀県小・中学校学習状況調査②

イ

【ポイント】

容器 A (球の半分) の体積を、半径 r を使って求めてみると、

半径 r の球の体積は、 $\frac{4}{3} \pi r^3$

容器 A の体積は、球の体積の $\frac{1}{2}$ になるから、 $\frac{2}{3} \pi r^3$

容器 B (円柱) の体積を、底面の半径 r 、高さ $2r$ を使って求めてみると、 $r \times r \times \pi \times 2r = 2\pi r^3$

容器 B \div 容器 A を計算すると、 $2\pi r^3 \div \frac{2}{3} \pi r^3 = 3$

容器 B は、容器 A の 3 ばい分になるね。

■数学的な思考力・判断力・表現力をはぐくむ問題[解答] 年組号氏名

■佐賀県小・中学校学習状況調査③

(1) ウ

【ポイント】

正四角錐^{すい}の体積の求め方は、

$$(\text{正四角錐の体積}) = (\text{底面積}) \times (\text{正四角錐の高さ}) \times \frac{1}{3}$$

で求めることができたよね。

正四角錐の底面は、1辺 a cmの正方形で、正四角錐の高さは8 cmだから、

$$a \times a \times 8 \times \frac{1}{3} = \frac{8}{3} a^2$$

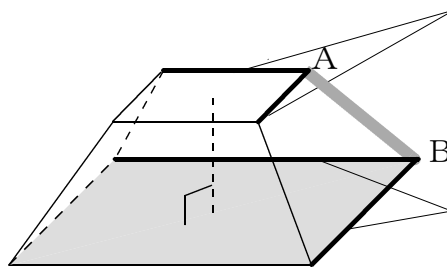
になるね。

(2) 4本

【ポイント】

辺ABと平行な直線はないね。

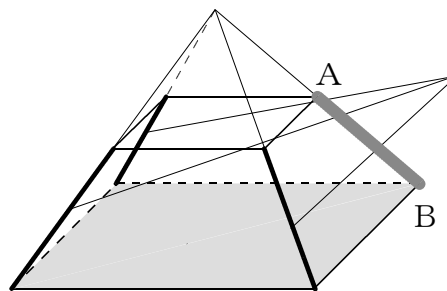
この2本は、点Aで
交わっているね。



この2本は、点Bで
交わっているね。
だから、ねじれの位置
ではないね。

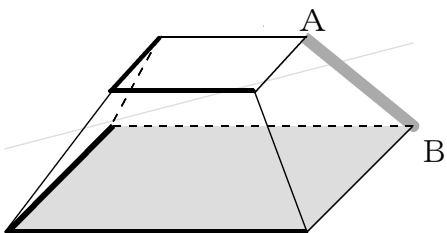
正四角錐を切ったものだったから、基の図形で考える。

この3本を延ばしてみ
ると、直線ABと交わるこ
とになるね。



だから、ねじれの位置で
はないね。

この4本が直線ABと
ねじれの位置にある直線
だね。

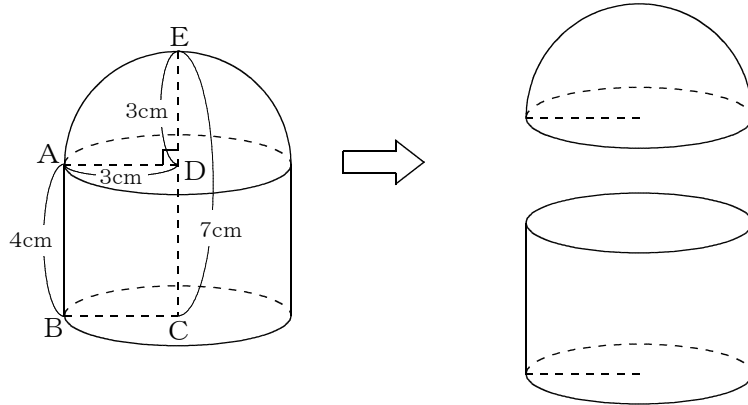


■佐賀県小・中学校学習状況調査④

$54\pi \text{ cm}^3$

【ポイント】

直線ECを軸として、1回転させてみると、
次のような図形ができるね。



この図形を、直線ADをふくむ直線ECに垂直な平面で切り分けてみると、半球と円柱からできていることが分かるね。

長方形ABCDと中心角が 90° であるおうぎ形DAEで、
 $AB = 4 \text{ cm}$ 、 $EC = 7 \text{ cm}$ だから、 $ED = AD = BC = 3 \text{ cm}$
底面の半径3 cm、高さ4 cmの円柱の体積は、

$$\begin{aligned} &(\text{半径}) \times (\text{半径}) \times (\text{円周率}) \times (\text{高さ}) \\ &3 \times 3 \times \pi \times 4 = 36\pi \text{ (cm}^3\text{)} \end{aligned}$$

半径3 cmの半球の体積は、

$$\begin{aligned} &(\text{半径}) \times (\text{半径}) \times (\text{半径}) \times (\text{円周率}) \times \frac{4}{3} \times \frac{1}{2} \\ &3 \times 3 \times 3 \times \pi \times \frac{4}{3} \times \frac{1}{2} = 18\pi \text{ (cm}^3\text{)} \end{aligned}$$

したがって、

求める体積は、 $36\pi + 18\pi = 54\pi \text{ (cm}^3\text{)}$ になるよ。